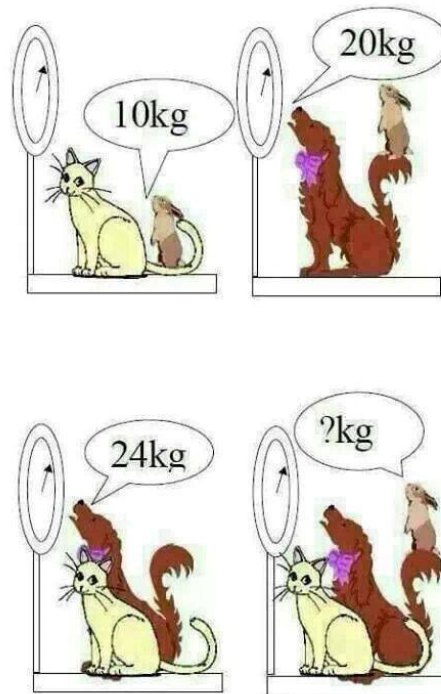


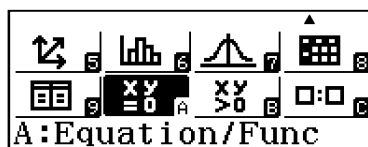
Álgebra

Sistemas de Ecuaciones Lineales

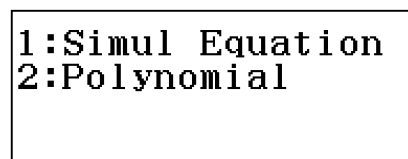
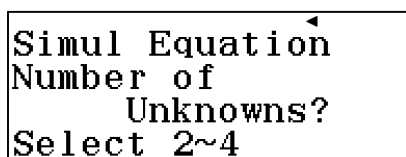
Calcula el peso de los tres animales.



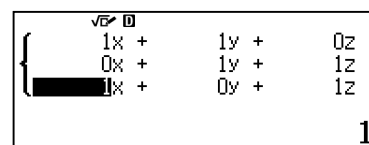
Solución con la calculadora



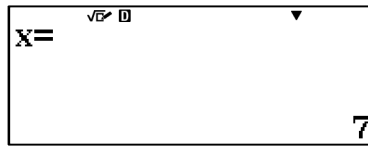
Paso 1. Ubicar y seleccionar el menú Ecuación.




Paso 2. Elegir Simul Equation.



Paso 3. Se elige la cantidad de ecuaciones.

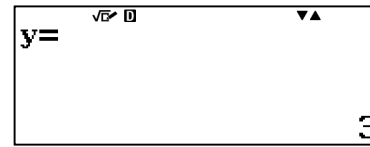


Paso 5. Con la tecla = se visualizan las soluciones.

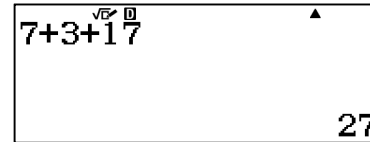


Paso 7. Con la tecla = se visualizan las soluciones.

Paso 4. Se introducen los coeficientes de las ecuaciones.



Paso 6. Con la tecla = se visualizan las soluciones.



Paso 8. Se suman las cantidades.

Respuesta:

Interpretando el resultado que la calculadora proporciona, el peso de los animales es el siguiente:

- *Gato* = 7
- *Conejo* = 3
- *Perro* = 17