

## Geometría Plana

### Conversión de Unidades de Medida

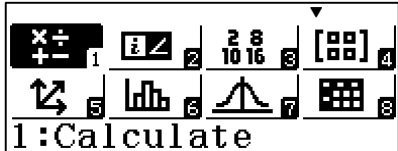
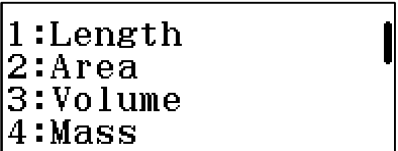
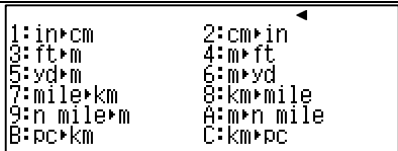
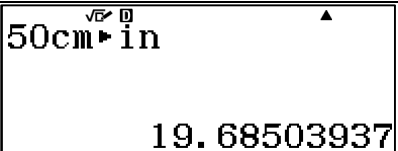
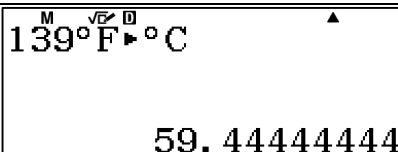
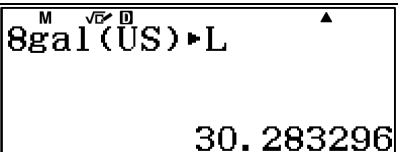
Realiza las siguientes conversiones de medidas

$$50 \text{ cm} \rightarrow \square \text{ in}$$

$$139 \text{ }^\circ\text{F} \rightarrow \square \text{ }^\circ\text{C}$$

$$8 \text{ gal} \rightarrow \square \text{ l}$$

#### Solución con la calculadora

 <p><b>Paso 1.</b> Ubicar y seleccionar el menú <u>Calcular</u>.</p>	 <p><b>Paso 2.</b> Presionando <b>SHIFT</b> y <b>8</b> se accede al menú de conversiones.</p>
 <p><b>Paso 3.</b> Seleccionar la magnitud a convertir.</p>	 <p><b>Paso 4.</b> Se realizan las conversiones correspondientes.</p>
 <p><b>Paso 5.</b> Se realizan las conversiones correspondientes.</p>	 <p><b>Paso 6.</b> Se realizan las conversiones correspondientes.</p>

#### Respuesta:

Se escriben los resultados obtenidos de la calculadora.

$$50 \text{ cm} \rightarrow \boxed{19.68} \text{ in}$$

$$139\text{ }^{\circ}\text{F} \rightarrow \boxed{59.44}\text{ }^{\circ}\text{C}$$

$$8\text{ gal} \rightarrow \boxed{30.28}\text{ l}$$